


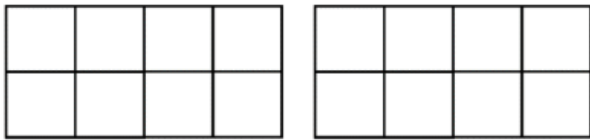
Ε' ΤΑΞΗ

17. Σύγκριση και διάταξη κλασμάτων

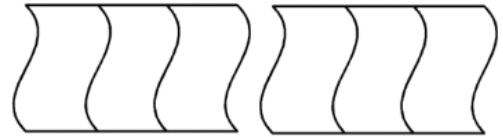
Όνομα:



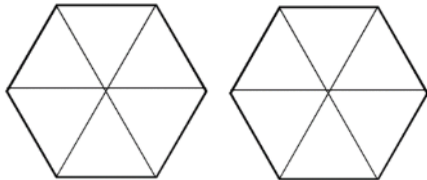
1. Χρωματίστε τα σχήματα κατάλληλα και συγκρίνετε τα κλάσματα με τα σύμβολα ισότητας και ανισότητας.



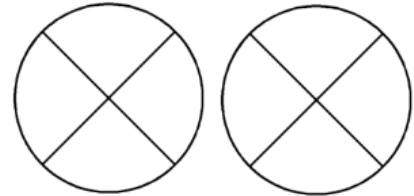
$$\frac{3}{8} \bigcirc \frac{2}{4}$$



$$\frac{3}{3} \bigcirc \frac{1}{3}$$



$$\frac{2}{3} \bigcirc \frac{4}{6}$$



$$\frac{1}{2} \bigcirc \frac{1}{4}$$

2. Τοποθετήστε τα κλάσματα από:

- το μικρότερο στο μεγαλύτερο:

$$\frac{1}{10} \quad , \quad \frac{1}{4} \quad , \quad \frac{1}{8} \quad , \quad \frac{1}{100} \quad , \quad \frac{1}{6} \quad , \quad \frac{1}{2} \quad , \quad \frac{1}{3}$$

.....

- το μεγαλύτερο στο μικρότερο:

$$\frac{6}{8} \quad , \quad \frac{1}{8} \quad , \quad \frac{10}{8} \quad , \quad \frac{7}{8} \quad , \quad \frac{3}{8} \quad , \quad \frac{8}{8} \quad , \quad \frac{16}{8}$$

.....

3. Συμπληρώστε το προηγούμενο και το επόμενο κλάσμα.

ΠΡΟΗΓΟΥΜΕΝΟ	ΚΛΑΣΜΑ	ΕΠΟΜΕΝΟ
	$\frac{5}{8}$	
	$\frac{1}{4}$	
	$\frac{9}{9}$	

4. Συμπληρώστε το κλάσμα που είναι ανάμεσα σε αυτά που δίνονται στον πίνακα.

$\frac{2}{4}$		$\frac{4}{4}$
$\frac{1}{10}$		$\frac{1}{7}$
$\frac{1}{3}$		$\frac{1}{2}$

5. Να τοποθετήσετε τους παρακάτω αριθμούς στη σωστή κατηγορία.

$\frac{5}{2}$, $\frac{4}{9}$, $\frac{40}{40}$, $\frac{8}{3}$, $\frac{3}{10}$, $\frac{1}{6}$, $2\frac{1}{2}$, $\frac{2}{2}$, $\frac{4}{1}$, $\frac{1.000}{1.000}$, $\frac{9}{100}$, $\frac{5}{11}$

Κοντά στο 0	Κοντά στο $\frac{1}{2}$	Ίσοι με το 1	Μεγαλύτεροι του 1